


جامعة  
المنارة  
MANARA UNIVERSITY

# الرسم الهندسي بالحاسوب

المحاضرة الرابعة - نظري

جامعة  
المنارة  
MANARA UNIVERSITY



# الأدراج Stairs

عناصر الحركة الرأسية Vertical Communication Systems:

توجد نماذج مختلفة لعناصر الحركة الرأسية، نذكر منها:

الأدراج Stairs

السطوح المائلة Ramps

المصاعد Elevators

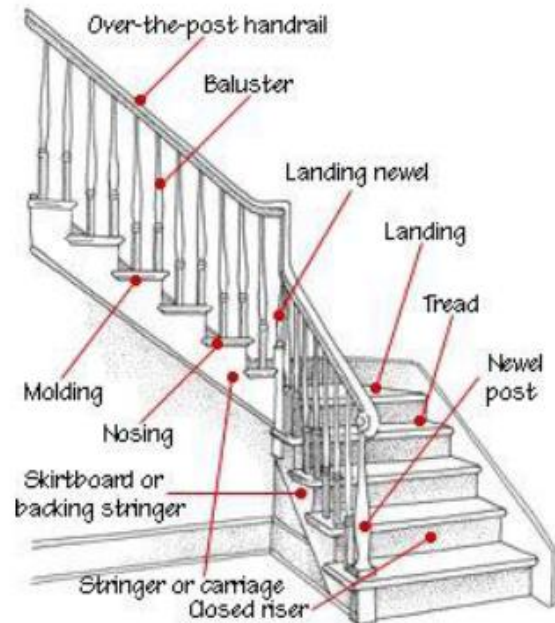
السلالم المتحركة Escalators




# الأدراج Stairs

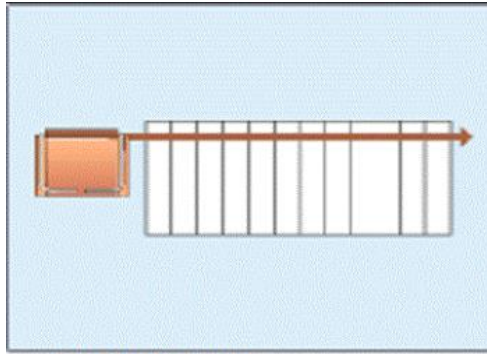
الدرج عنصر أساسي في التصميم يتطلب التعامل معه بحذر كما يتطلب نوع من الإبداع، حيث يجب أن يكون في موقع جيد وشكله جميل وعملي، حيث يمكن للدرج أن يلعب دوراً هاماً في خدمة الديكور الداخلي.

تعتبر السلالم أهم العناصر المعمارية التي تربط الأدوار في مستويات مختلفة في المبنى بواسطة الدرج. وتتميز السلالم بموقعها في البناء وشكلها المنتظم بالإضافة إلى عدد القلبات واتجاهها وشكل الدرجات، وبمادة الإنشاء وبالفائدة أو الاستعمال أو النفع الذي تؤديه.

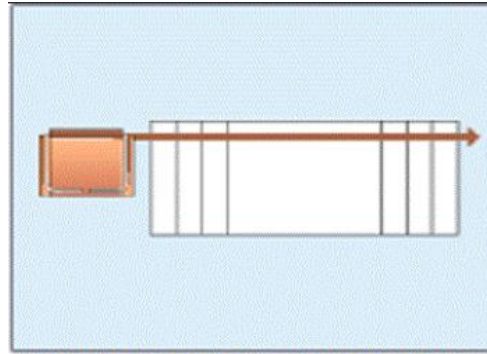




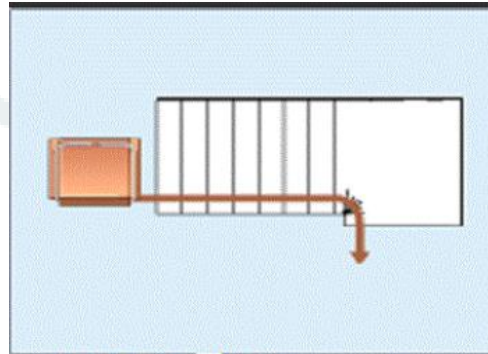
# أنواع الأدراج



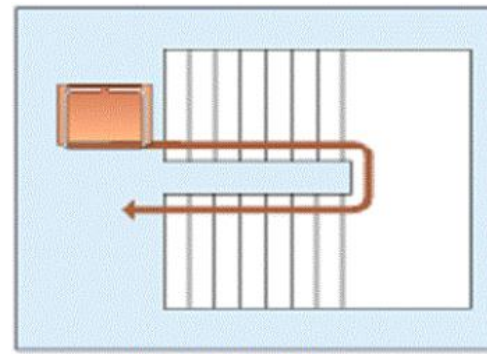
STRAIGHT STAIRS



STAIRS WITH INTERMEDIATE LANDING



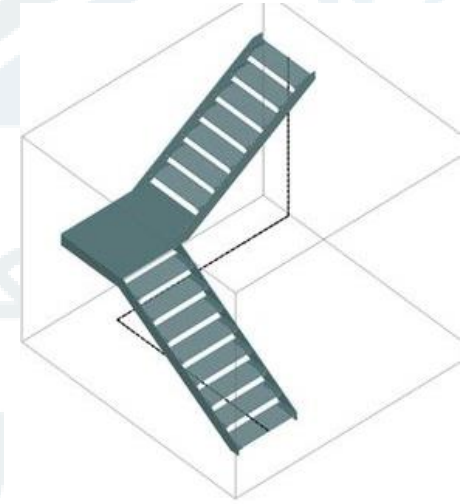
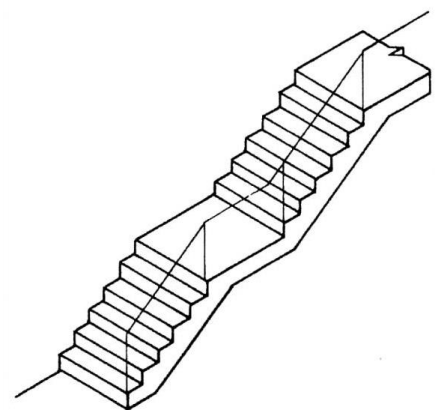
L-SHAPED STAIRS



U-SHAPED STAIRS



Straight Stairs




L Shape Staircase

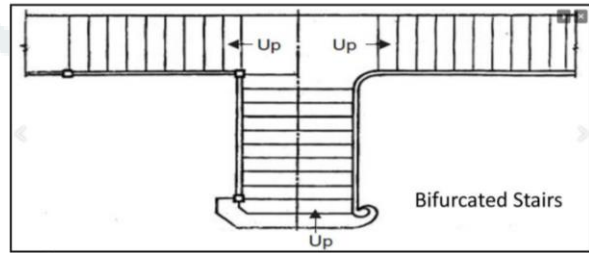
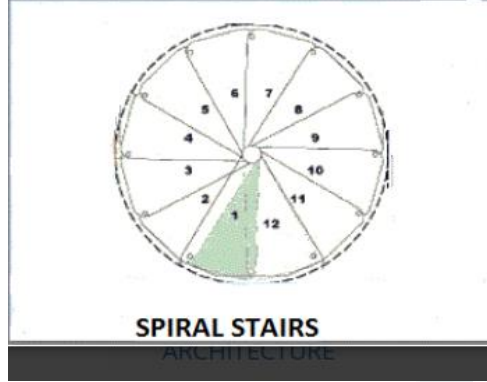
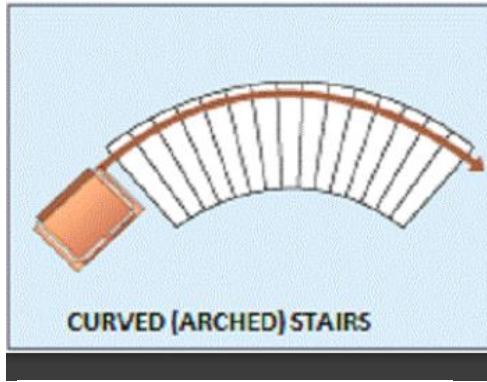


U-Shape Stairs

أنواع الأدراج:  
الأدراج المستقيمة  
الأدراج على شكل L  
الأدراج على شكل U



# أنواع الأدرج



أنواع الأدرج:  
الأدرج المستقيمة  
الأدرج على شكل L  
الأدرج على شكل U



Curved Staircase



Spiral Staircase




Split Staircase

# مكونات الدرج

- **بيت الدرج Stair well:** هو المسطح الذي يقام فيه الدرج ويختلف شكله في المسقط الأفقي حسب نوع الدرج ويسمى بئر الدرج .
- **الدرجة Step:** تكون في مجموعها الدرج وتثبت بين جسرين مائلين هما فخذي الدرج أو تثبت إحدى نهايتها في الفخذ والأخرى في الجدار.
- **النائمة Tread:** هي سطح الدرجة الأفقي التي يوضع عليها القدم. و عرض النائمة عبارة عن عرض الدرجة.
- **القائمة Riser:** هي المسافة الرأسية بين نائمتين ، الواجهة العمودية للدرجة و ارتفاعها ارتفاع الدرجة.
- **الأنف Nose:** هو تقاطع سطحي النائمة والقائمة للدرجة , ويبرز بمقدار 25-25 مم تقريباً ويكون اما قائماً أو منحنيماً أو مائلاً ... الخ .
- **الشاحط Flight:** هو مجموعة من الدرجات في مستوى واحد مائل توصل من مستوى إلى آخر ويسمى القلبة .
- **البسطة (الصدفة) Landing:** سطح أفقي يفصل بين شاحطين للراحة في الصعود , عندها قد يتغير اتجاه الدرج وطولها يكون مساوياً لعرض بيت الدرج .وهي إما متوسطة أو نهائية وتسمى النهائية ببسطة الوصول.

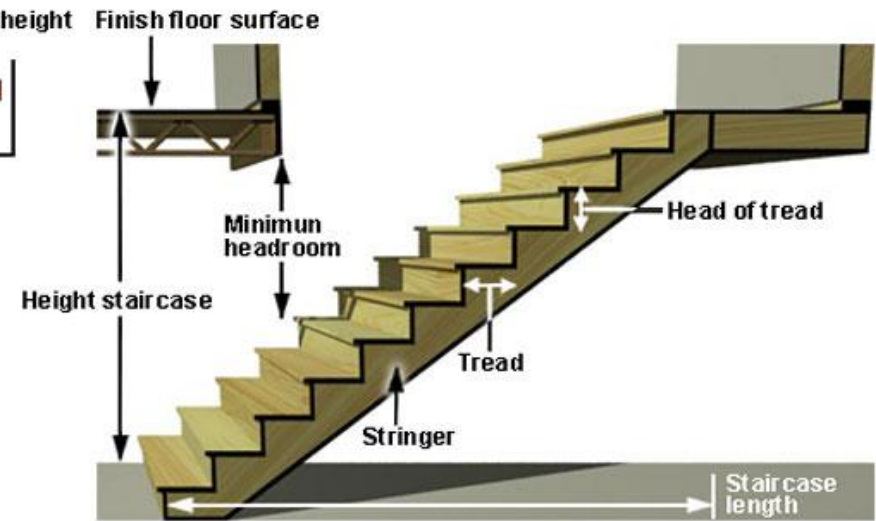
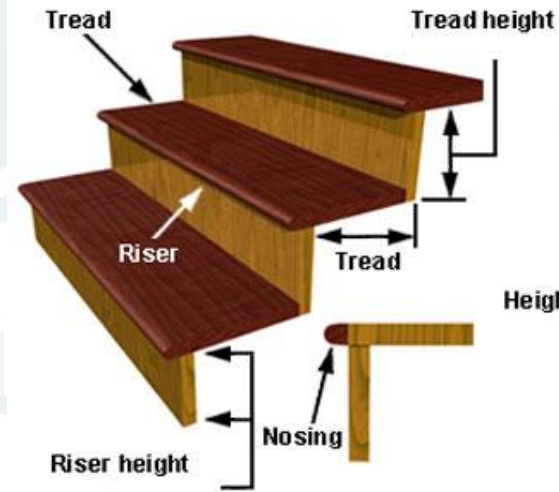
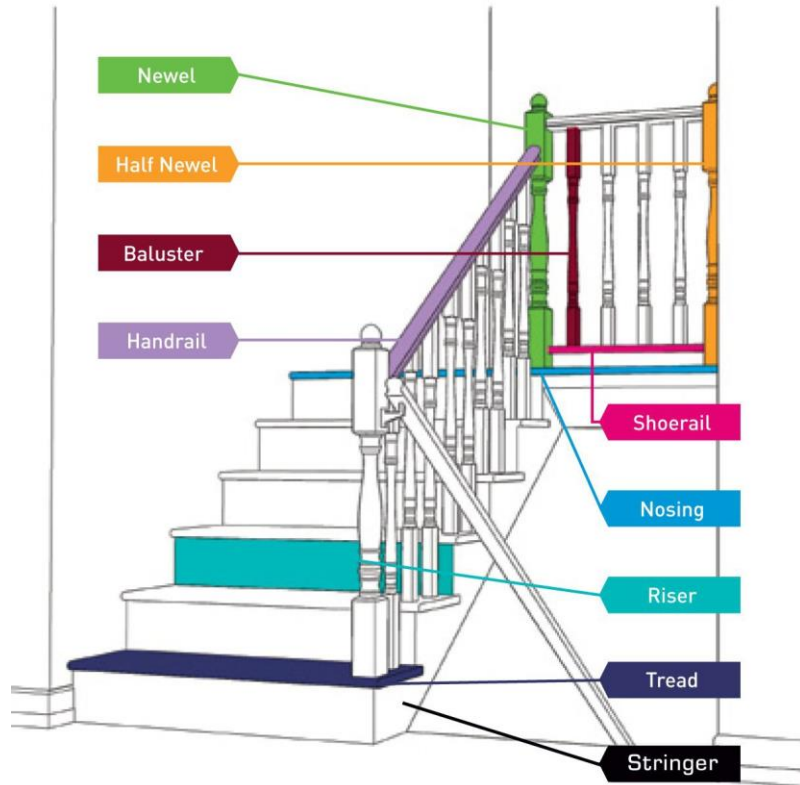
# مكونات الدرج

- **الفخذ Staring**: هو الجسر المائل الذي يحمل الدرج ويكون اما مجاوراً للجدار أو بداخله او بعيداً عنه .
- **خط الميل Slope**: عبارة عن الخط المائل الذي يصل بين أنوف الدرجات ويوازي مقبض اليد وتعرف الزاوية المحصورة بينه وبين المستوى الأفقي للدرج بزاوية الميل.
- **الدرابزين Balustrade**: هو الحاجز الذي يحيط بالشواحط والبساطات والغرض منه حماية المستخدمين لدرج .
- **مقبض اليد Hand Rail**: قضيب مستمر مكون من قطعة واحدة أو عدة قطع , وتجمع مع بعضها ومع الدرابزين .
- **الفراغ الأوسط Open Well**: هو الفراغ الذي بين شواحط الدرج .
- **البادئ Starting Step**: الدرجة الأولى في الشاحط من أسفلة .
- **الصدفه Floor Landing**: البسطة التي تقع في مستوى الدور وتوصل الشقق .




# مكونات الدرج

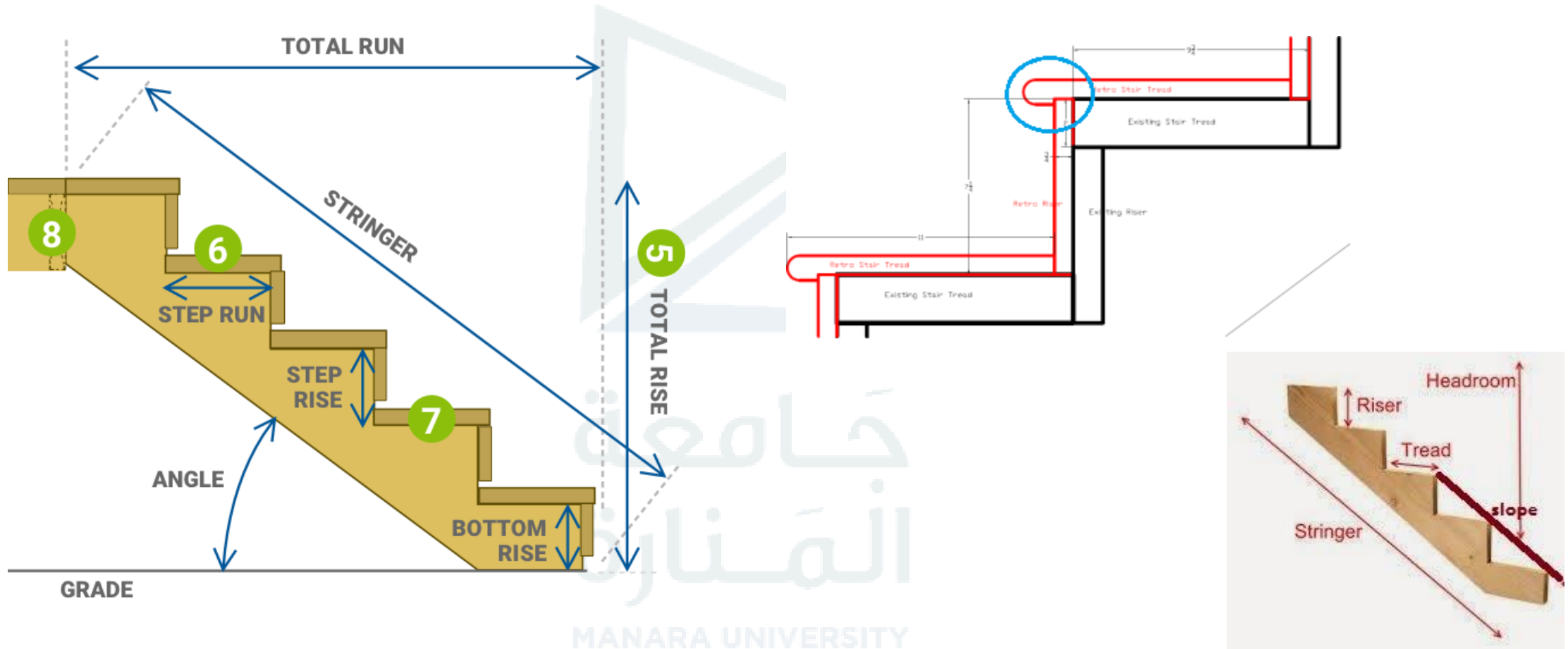
## Staircase Anatomy








# مكونات الدرج





# أسس تصميم الأدرج

**موقع الدرج:** يجب أن يكون موجود بحيث يوفر سهولة الوصول إلى شاغلي المبنى و أن يكون موقعه جيداً بحيث يكون مضاءً بشكل جيد وتهويته مباشرةً من الخارج. كما يجب أن يكون موقعه جيداً بحيث يكون له مقاربات مريحة وواسعة.

**عرض الدرج (القلبية):** يجب أن تكون السلالم واسعة بما يكفي لتحمل المستخدم دون حشد كبير أو إزعاج. يعتمد عرض الدرج على موقعه في المبنى ونوع المبنى نفسه. في مبنى محلي أو سكني ، لا يقل عرض القلبية عن 90 سم في المنازل والفيلات على أن عرض 110 سم هو الأفضل لإمكانية ثقل المفروشات وقطع الأثاث، بينما قد يكون العرض من 1.5 إلى 1.8 متر مطلوباً في المبنى العام.

**طول السلم:** من ناحية الراحة، يجب قصر رحلة الدرج على 12 خطوة (step) كحد أقصى و 3 خطوات على الأقل.

**درجة ميل السلم (Pitch):** يجب أن تكون درجة السلم الطويل توفر فضاءً مناسباً عن طريق إدخال الصينية (Landing) لجعل الصعود أقل إرهاقاً وأقل خطورة. بشكل عام يجب ألا يتجاوز الميل 400 وألا يقل عن 250.


**سطح الغرفة أعلى الدرج:** يجب ألا تقل المسافة الصافية بين (Tread) وخطوة الرحلة فوقها مباشرة عن 2.1 إلى 2.3 متر ، حتى يتمكن الشخص الطويل من استخدام الدرج مع بعض الأمتعة على رأسه من دون أن يصطدم في رأس الغرفة من الأعلى.

**المواد:** يجب بناء السلالم باستخدام مواد مقاومة للحريق. يجب أن يكون للمواد أيضاً قوة كافية لمقاومة أي تأثير.

**الدرازين:** يجب أن يتم تزويد جميع السلالم المفتوحة بالدرازينات لتجنب الحوادث. في حالة السلالم الواسعة ، يجب تزويدها بقضبان يدوية على كلا الجانبين. ارتفاع الدرازين لا بد ألا يكون أكثر من 1م ولا يقل عن 0.75م

**الصينية (Landing):** يجب ألا يقل عرض الصينية عن عرض الدرج.

**الشاحط (Flight):** تتراوح سماكته بين 8 – 20 سم.



# أسس تصميم الأدرج

- أن تكون النسبة بين القائمة والنائمة تتماشى مع القواعد المتفق عليها بحيث لا تقل زاوية الميل عن 25 درجة ولا تزيد عن 45 درجة ، ويفضل أن تكون 25 : 35 درجة إلا في السلالم غير الهامة.
  - يجب أن تكون عرض الصدفات أكبر أو تساوى عرض القلبات وأن تكون الصدفة " النهائية" أعرض من البسطات الوسطى (بسطات الاستراحة).
  - يجب أن يكون السلم جيد الإضاءة والتهوية ويلاحظ أن السلالم ذات الدرابزينات المصمتة تحتاج إلى فتحات إضاءة أوسع من الدرابزينات المفتوحة.
  - يجب ألا يتعدى عدد درجات القلبة الواحدة 12 درجة ، ويمكن جعلها 14 ، وقد يزيد العدد في الأدوار الأرضية والصدفة بالضرورة المعمارية، ويجب مراعاة ألا يقل استعمال من درجتين إلى ربع درجات في القلبة الواحدة.
  - يتم اختيار عرض بسطة الدرج بقدر لا يقل عن 100 سم ولا يقل عن عرض القلبات أو الردات ويفضل أن يكون مساوياً لـ (1.2×عرض الشاحط) تسهيلاً لمرور الأثاث والمفروشات. حدود القائمة تبدأ من 0.12 م إلى 0.18 م حيث القائمة المفضلة والمتوسطة 0.15 م.
  - حدود النائمة تبدأ من 0.24 إلى 0.32 م حيث النائمة المفضلة والمتوسطة 0.30 م.
- ملاحظة: عدد القوائم يزيد عن عدد النوائم بوحدة.

# أسس تصميم الأدرج


يتم تطبيق إحدى القاعدتين التاليتين للحصول على العلاقة بين عرض الدرجة (النائمة) وارتفاعها (القائمة) للحصول على درج مريح:

- $ن + 2 \times ق = 60 \leftarrow 64$  سم.

- $ن + ق = 45 \leftarrow 47$  سم.

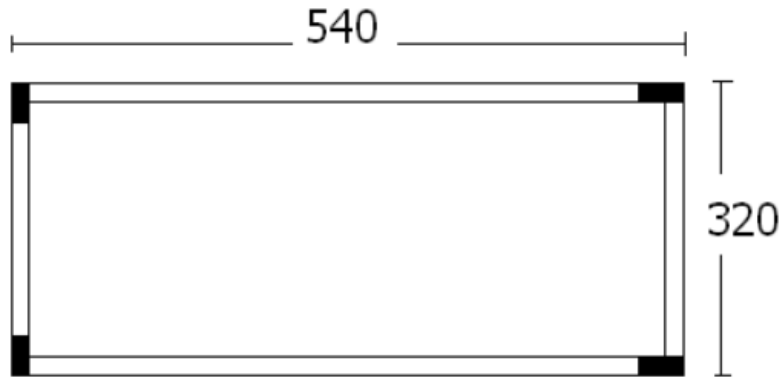
كما يمكن اختيار عرض الدرجة المناسب للارتفاع المحدد حسب الجدول التالي:

27	28	29	30	عرض الدرجة (سم)
18	17	16	15	ارتفاع الدرجة (سم)



# مثال 1

لدينا درج أبعاده كما هو مبين على الشكل المجاور، سماكة الجدران 20 سم، منسوب القبو -150 سم، منسوب الطابق الأرضي 120 سم، وارتفاع الطابق 300 سم. والمطلوب: تصميم الدرج وفق المعطيات السابقة.



الحل:


1. حساب الأبعاد الصافية لبيت الدرج:

$$\text{بالاتجاه الطولي} \quad 540 - 2 \times 20 = 500 \text{ cm}$$

$$\text{بالاتجاه العرضي} \quad 320 - 2 \times 20 = 280 \text{ cm}$$

2. حساب عدد الدرجات في الطابق الواحد:

- الطابق المتكرر: بفرض ارتفاع الدرجة 15 cm، بالتالي يكون عدد الدرجات مساوياً لارتفاع الطابق / ارتفاع الدرجة  
 $= 300/15 = 20$  درجة (في الردتين). وبالتالي يكون عدد الدرجات في الردة الواحدة مساوياً لـ  $20/2 = 10$  درجات.
- القبو: عدد الدرجات يساوي ارتفاع الطابق / ارتفاع الدرجة =  $120/15 = 8$  درجات.



# مثال 1

لدينا درج أبعاده كما هو مبين على الشكل المجاور، سماكة الجدران 20 سم، منسوب القبو -150 سم، منسوب الطابق الأرضي 120 سم، وارتفاع الطابق 300 سم. والمطلوب: تصميم الدرج وفق المعطيات السابقة.

الحل:

3. حساب المسافة الأفقية التي تشغلها الدرجات في الطابق المتكرر:

عدد الفراغات التي تشغلها الدرجات يكون مساوياً لعدد الدرجات -1 وذلك لأن الدرجة الأخيرة تكون جزءاً من البسطة. بالتالي تكون المسافة الأفقية التي تشغلها الدرجات مساوياً لعدد الفراغات مضروباً بالعرض الافتراضي للدرجة.

إذا افترضنا أن عرض الدرجة الواحدة مساوياً لـ 30 cm بالتالي تكون المسافة الأفقية التي تشغلها الدرجات مساوية لـ:

$$(10-1) \times 30 = 270 \text{ cm}$$

4. حساب عرض البسطة:

عرض البسطة يساوي (الطول الصافي لبيت الدرج – المسافة الأفقية التي تشغلها الدرجات) / 2/

$$(500-270)/2 = 115 \text{ cm}$$

# مثال 1

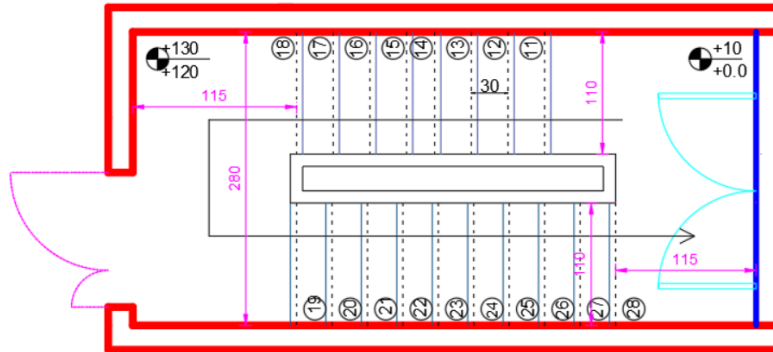
لدينا درج أبعاده كما هو مبين على الشكل المجاور، سماكة الجدران 20 سم، منسوب القبو -150 سم، منسوب الطابق الأرضي 120 سم، وارتفاع الطابق 300 سم. والمطلوب: تصميم الدرج وفق المعطيات السابقة.


الحل:

5. حساب عرض الردة الصافي (طول الدرجة):

$$\text{طول الدرجة} = (\text{العرض الصافي لبيت الدرج} / 2) - \text{سماكة الدرابزون} = 130 \text{ cm} = (280 / 2) - 10$$

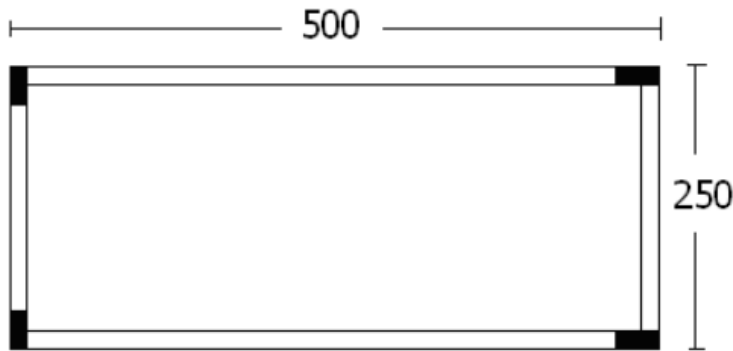
نلاحظ أن طول الدرجة أكبر من عرض البسطة لذلك يمكن ترك فراغ أوسط (فانوس) بعرض 40 cm وبالتالي يصبح طول الدرجة مساوياً لـ  $110 \text{ cm} = (240 / 2) - 10$ .





## مثال 2

لدينا بيت درج أبعاده كما هو مبين على الشكل المجاور، سماكة الجدران 20 سم، منسوب الطابق الأرضي 112 سم، وارتفاع الطابق 320 سم. والمطلوب: 1. تصميم الدرج وفق المعطيات السابقة، 2. رسم المسقط الأفقي للدرج في الطابق الأرضي والطابق الأول بمقياس 1/50.



الحل:

1. حساب الأبعاد الصافية لبيت الدرج:

$$\text{بالاتجاه الطولي} \quad 500 - 2 \times 20 = 460 \text{ cm}$$

$$\text{بالاتجاه العرضي} \quad 250 - 2 \times 20 = 210 \text{ cm}$$

2. حساب عدد الدرجات في الطابق الواحد:


• الطابق المتكرر: بفرض ارتفاع الدرجة 15 cm، بالتالي يكون عدد الدرجات مساوياً لارتفاع الطابق / ارتفاع الدرجة

$320/15 = 21.33$  درجة (في الردتين). وهو غير مقبول لأنه عدد غير صحيح. لنفرض ارتفاع الدرجة 16 cm بالتالي

يكون عدد الدرجات مساوياً ل:  $320/16 = 20$  درجة (في الردتين). وبالتالي يكون عدد الدرجات في الردة الواحدة مساوياً

ل  $20/2 = 10$  درجات.





## مثال 2

لدينا بيت درج أبعاده كما هو مبين على الشكل المجاور، سماكة الجدران 20 سم، منسوب الطابق الأرضي 112 سم، وارتفاع الطابق 320 سم. والمطلوب: 1. تصميم الدرج وفق المعطيات السابقة، 2. رسم المسقط الأفقي للدرج في الطابق الأرضي والطابق الأول بمقياس 1/50.

**الحل:**


2. حساب عدد الدرجات في الطابق الواحد:

• الطابق الأرضي: بفرض ارتفاع الدرجة 16 cm ، بالتالي يكون عدد الدرجات مساوياً لارتفاع الطابق / ارتفاع الدرجة  
 $= 112 / 16 = 7$  درجات.

3. حساب المسافة الأفقية التي تشغلها الدرجات في الطابق المتكرر:

عدد الفراغات التي تشغلها الدرجات يكون مساوياً لعدد الدرجات - 1 وذلك لأن الدرجة الأخيرة تكون جزءاً من البسطة. بالتالي تكون المسافة الأفقية التي تشغلها الدرجات مساوياً لعدد الفراغات مضروباً بالعرض الافتراضي للدرجة.  
إذا افترضنا أن عرض الدرجة الواحدة مساوياً لـ 30 cm بالتالي تكون المسافة الأفقية التي تشغلها الدرجات مساوية لـ:

$$(10-1) \times 30 = 270 \text{ cm}$$



## مثال 2

لدينا بيت درج أبعاده كما هو مبين على الشكل المجاور، سماكة الجدران 20 سم، منسوب الطابق الأرضي 112 سم، وارتفاع الطابق 320 سم. والمطلوب: 1. تصميم الدرج وفق المعطيات السابقة، 2. رسم المسقط الأفقي للدرج في الطابق الأرضي والطابق الأول بمقياس 1/50.

الحل:

4. حساب عرض البسطة:

عرض البسطة يساوي (الطول الصافي لبيت الدرج – المسافة الأفقية التي تشغلها الدرجات) / 2  
 $95 \text{ cm} = (460 - 270) / 2$  وهو غير مقبول لأنه أصغر من 100 cm (والذي هو العرض الأصغر المقبول). لذلك نغير عرض الدرجة إلى 28 cm وبالتالي تكون المسافة الأفقية التي تشغلها الدرجات مساوية لـ:  $252 \text{ cm} = (10 - 1) \times 28$  فيكون عرض البسطة مساوياً لـ:  
 $104 \text{ cm} = (460 - 252) / 2$

5. حساب عرض الردة الصافي (طول الدرجة):

طول الدرجة = (العرض الصافي لبيت الدرج / 2) – سماكة الدرابزون =  $10 - (210 / 2) = 95 \text{ cm}$ .